

























NESNE GRAFİĞİ ÇALIŞMAMIZ

Aşağıdaki grafiği inceleyiniz. Grafik ile ilgili soruları cevaplayınız.

Grafik : Sevilen Spor Dalları

Futbol	        
Voleybol	    
Basketbol	       
Tenis	  

Her şekil 2 kişiyi göstermektedir.

Aşağıdaki soruları grafiğe göre cevaplayınız.

- 1- Tenisi seven kaç kişi vardır?
- 2- Futbolu seven kaç kişi vardır?
- 3- Voleybolu seven kaç kişi vardır?
- 4- Basketbolu seven kaç kişi vardır?
- 5- En çok hangi spor seviliyor?
- 6- Futbol ile voleybolu seven kişi sayısı toplamı kaçtır?
- 7- Basketbolu seven kişi sayısı, tenisi seven kişi sayısından kaç fazladır?
.....
- 8- Futbolu seven kişi sayısı, voleybolu seven kişi sayısından kaç fazladır?
.....

Aşağıdaki çarpma işlemlerini yapınız.

$$\begin{array}{r} 23 \\ \times 3 \\ \hline \end{array}$$

$$\begin{array}{r} 41 \\ \times 2 \\ \hline \end{array}$$

$$\begin{array}{r} 44 \\ \times 2 \\ \hline \end{array}$$

$$\begin{array}{r} 34 \\ \times 2 \\ \hline \end{array}$$

$$\begin{array}{r} 22 \\ \times 3 \\ \hline \end{array}$$

$$\begin{array}{r} 19 \\ \times 3 \\ \hline \end{array}$$

$$\begin{array}{r} 31 \\ \times 3 \\ \hline \end{array}$$

$$\begin{array}{r} 26 \\ \times 3 \\ \hline \end{array}$$






$$\begin{array}{r} 27 \\ \times 3 \\ \hline \end{array}$$

$$\begin{array}{r} 16 \\ \times 4 \\ \hline \end{array}$$

$$\begin{array}{r} 13 \\ \times 5 \\ \hline \end{array}$$

$$\begin{array}{r} 18 \\ \times 4 \\ \hline \end{array}$$

Aşağıda bir sepette bulunan meyvelerin grafiği verilmiştir. Grafiği inceleyiniz. Grafik ile ilgili soruları cevaplayınız.

Elma	
Armut	
Kiraz	
Ayva	
Karpuz	
Her şekil 3 meyveyi göstermektedir.	

Aşağıdaki soruları grafiğe göre cevaplayınız.

- 1- Tabakta kaç tane ayva vardır?
- 2- Tabakta kaç tane elma vardır?
- 3- Tabakta kaç tane armut vardır?
- 4- Tabakta kaç tane kiraz vardır?
- 5- Tabakta kaç tane karpuz vardır?
- 6- Tabakta en az hangi meyve vardır?
- 7- Tabaktaki ayva ve elmaların toplamı kaçtır?
- 8- Tabaktaki kirazların sayısı, ayvaların sayısından kaç fazladır?
.....
- 9- Tabaktaki toplam kaç meyve vardır?